



Konkurs Geograficzny
dla uczniów szkół podstawowych województwa zachodniopomorskiego
w roku szkolnym 2018/2019

Etap rejonowy

Drogi Uczniu!

Przed przystąpieniem do pracy z testem **zakoduj swoje dane na karcie odpowiedzi** zgodnie z poleceniem komisji konkursowej.

Za chwilę będziesz rozwiązywać test, który składa się z **35 zadań** zamkniętych. Każde zawiera **cztery odpowiedzi**, z których **tylko jedna jest poprawna**. Znajdź ją i zaznacz wyłącznie na załączonej **karcie odpowiedzi**.

W przypadku pomyłki błędnej odpowiedź obwiedź kółkiem i zaznacz nową, poprawną. Jeżeli zaznaczysz więcej niż jedną odpowiedź bez wskazania, która jest prawidłowa, to żadna z nich nie będzie uznana.

Pracuj spokojnie i uważnie. W czasie rozwiązywania zadań możesz używać linijki i prostego kalkulatora. Na karcie odpowiedzi nie używaj ołówka, gumki ani korektora. Po zakończeniu pracy sprawdź, czy udzieliłeś wszystkich odpowiedzi.

Na rozwiązanie zadań masz **90 minut**.

Powodzenia!

Zadanie 1. (0-1 pkt)

Największy % udział w powierzchni lądów na Ziemi mają:

- A. Ameryka Północna i Ameryka Południowa.
- B. Europa i Afryka.
- C. Azja i Australia.
- D. Europa i Azja.

Zadanie 2. (0-1 pkt)

Załączony zbiór sygnatur jest typowy dla:

- A. mapy samochodowej.
- B. mapy topograficznej.
- C. planu miasta.
- D. mapy ogólnogeograficznej.

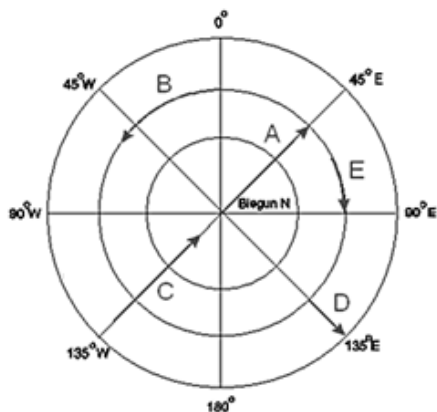


Zadanie 3. (0-1 pkt)

Jeżeli w czasie wędrowki po sudeckich szlakach, w pogodny i słoneczny dzień staniemy w południe tyłem do Słońca, to:

- A. nasz cień wskaże kierunek południowy, a prawa ręka kierunek zachodni.
- B. nasz cień wskaże kierunek południowy, a prawa ręka kierunek wschodni.
- C. nasz cień wskaże kierunek północny, a prawa ręka kierunek wschodni.
- D. nasz cień wskaże kierunek północny, a prawa ręka kierunek zachodni.

Zadanie 4. (0-1pkt)



Rysunek ilustruje rozkład głównych kierunków. Strzałka E wskazuje:

- A. południe.
- B. wschód.
- C. zachód.
- D. północ.

Zadanie 5. (0-1 pkt)

Na mapie wykonanej w skali 1:1 250 000 zmierzona odległość między Poznaniem, a Warszawą w linii prostej wynosi 22 cm. Jaka jest rzeczywista odległość między tymi miastami?

- A. 275 km.
- B. 2750 km.
- C. 568 km.
- D. 220 km.

Zadanie 6. (0-1pkt)

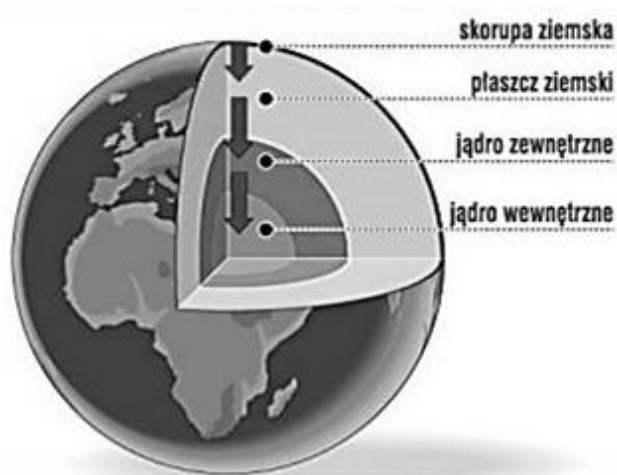
Najwyższy szczyt w Bieszczadach – Tarnica ma 1346 m n.p.m. Ustrzyki Górne leżą u podnóża Tarnicy na wysokości 650 m n.p.m. Ile wynosi wysokość względna Tarnicy?

- A. 650 m.
- B. 696 m.
- C. 1346 m.
- D. 1996 m.

Zadanie 7. (0-1pkt)

Podobną budowę z metalicznym jądrem i skalną skorupą posiadają:

- A. Merkury, Ziemia, Mars i Jowisz.
- B. Wenus, Ziemia, Mars i Saturn.
- C. Mars, Jowisz, Saturn i Uran.
- D. Merkury, Wenus, Ziemia i Mars.



Zadanie 8. (0-1 pkt)

Różnica obwodu Ziemi mierzona wzdłuż równika i wzdłuż południków jest efektem:

- A. przyciągania Słońca.
- B. pływów oceanicznych.
- C. ruchu obrotowego Ziemi.
- D. ruchu obiegowego Ziemi.

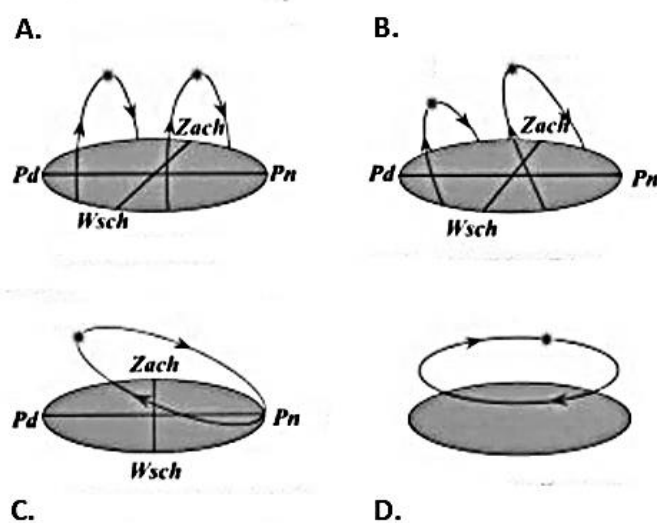
Zadanie 9. (0-1pkt)

Dobierz odpowiadającą dla Madrytu (40°N ; 3°W) godzinę czasu słonecznego wiedząc, że w Warszawie ($52^{\circ}15'\text{N}$; 21°E) jest godzina 10.00 czasu słonecznego.

- A. 8^{34} .
- B. 8^{24} .
- C. 9^{00} .
- D. 10^{00} .

Zadanie 10. (0-1pkt)

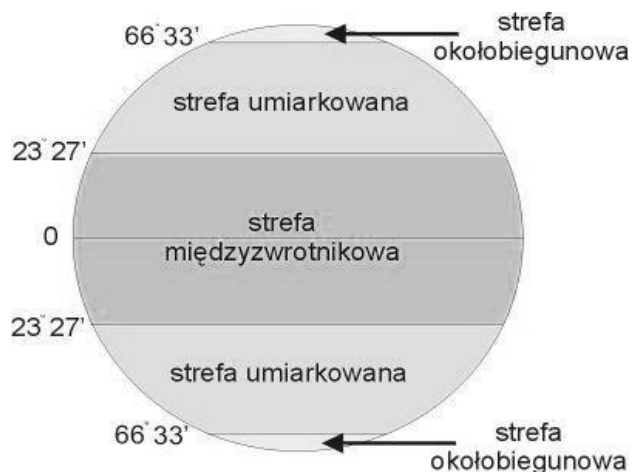
Podaj, który rysunek przedstawia widome ruchy Słońca na biegunie północnym 22 czerwca?



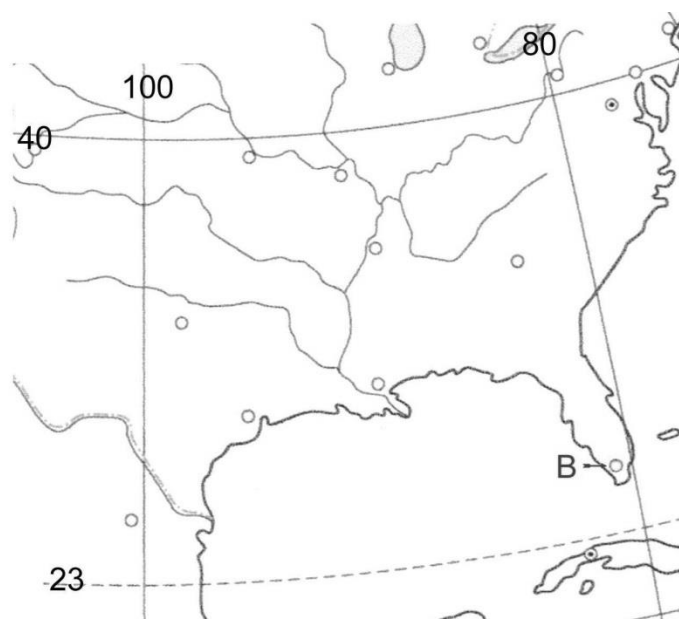
Zadanie 11. (0-1 pkt)

Rysunek przedstawia strefy oświetlenia Ziemi. Wskaż zdanie, która zawiera prawdziwą informację.

- A. Słońce widoczne jest w zenicie w strefie okołobiegunowej.
- B. Różnica wysokości górowania Słońca w ciągu roku wynosi około 47° w całej strefie umiarkowanej.
- C. Dzień i noc polarna na kołach podbiegunowych trwają do pół roku.
- D. Na równiku różnice w czasie trwania dnia i nocy dochodzą do 2 godzin.



Zadanie 12. (0-1 pkt)



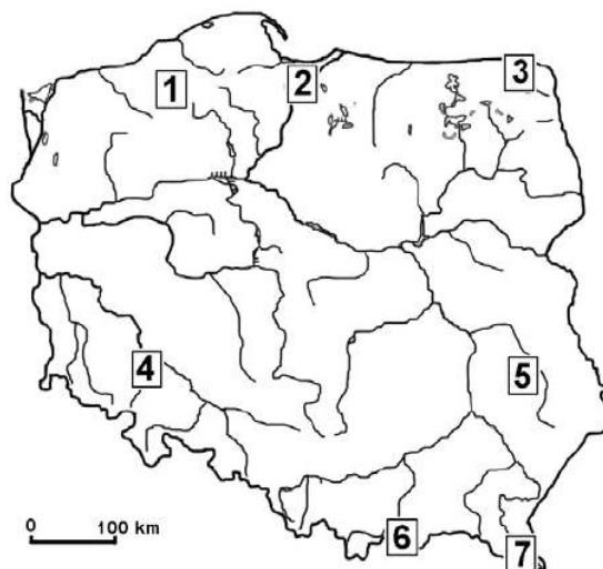
Punkt B zaznaczony na mapie posiada współrzędne:

- A. 119° E; 26° N
- B. 26° W; 81°N
- C. 81° W; 48° S
- D. 81° W; 26° N

Zadanie 13. (0-1pkt)

Wśród zaznaczonych na mapie krain geograficznych numerem 5 oznaczono:

- A. Nizinę Mazowiecką.
- B. Bieszczady.
- C. Wyżynę Lubelską.
- D. Nizinę Podlaską.



Zadanie 14. (0-1pkt)

Jakie dwa typy wybrzeża opisano kolejno w załączonym tekście?

Nad Morzem Bałtyckim ukształtowały się różne typy wybrzeży. Polskie wybrzeże jest nieustannie wyrównywane. Prądy przybrzeżne i falowanie niszczą wybrzeże wysokie i transportują piaski i żwir, osadzając je na załamaniach linii brzegowej, tworząc półwyspy. W miejscach, gdzie morze styka się z wysoczyznami pochodzenia morenowego, utworzyły się wysokie i strome ściany brzegu morskiego.

- A. mierzejowe, fiordowe.
- B. klifowe, mierzejowe.
- C. klifowe, fiordowe.
- D. mierzejowe, klifowe.

Zadanie 15. (0-1 pkt)

Zdjęcia ukazują krajobrazy Polski. Wskaż obraz ilustrujący typowy krajobraz staroglacjalny Nizin Środkowopolskich.



Zadanie 16. (0-1 pkt)

Szlak Latarni Morskich woj. zachodniopomorskiego przebiega praktycznie wzdłuż wybrzeża Bałtyku. Zdjęcie ilustruje:

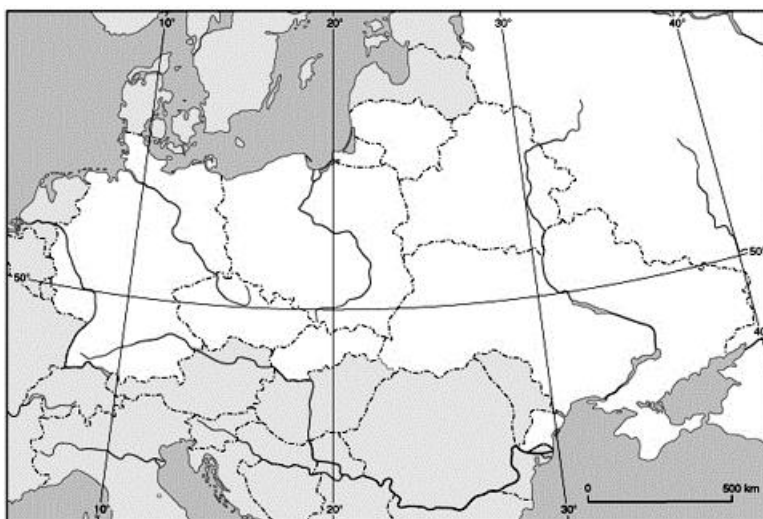
- A. Latarnię Morską w Kołobrzegu.
- B. Latarnię Morską w Jarosławcu.
- C. Latarnię Morską w Niechorzu.
- D. Latarnię Morską w Świnoujściu.



Zadanie 17. (0-1 pkt)

Długość granicy państwowej Polski wynosi 3511 km (w tym 3071 km granicy lądowej). Najdłuższą granicę lądową Polska posiada z:

- A. Niemcami.
- B. Słowacją.
- C. Czechami.
- D. Ukrainą.



Zadanie 18. (0-1 pkt)

Czas letni wprowadzono dla oszczędności energii. Czas letni w Polsce jest to czas strefowy południka:

- A. 7°30'E
- B. 15°E
- C. 22°30'E
- D. 30°E

Zadanie 19. (0-1pkt)

Tabela przedstawia roczny rozkład temperatury powietrza w Warszawie. Ile wynosi roczna amplituda temperatur powietrza w Warszawie?

| miesiące | I | II | III | IV | V | VI | VII | VIII | IX | X | XI | XII | rok |
|-------------|------|------|-----|-----|------|------|------|------|------|-----|-----|------|-----|
| temperatura | -2,9 | -2,0 | 1,8 | 7,6 | 13,8 | 16,8 | 18,6 | 17,2 | 13,3 | 7,8 | 2,3 | -1,3 | 7,8 |

- A. 7,8°C.
- B. 15,7°C.
- C. 18,6°C.
- D. 21,5°C.

Zadanie 20. (0-1pkt)

Na obszarze przedstawionym na mapie zaznaczono eksploatację:

- A. ropy naftowej
- B. rud cynku i ołowiu.
- C. rud miedzi.
- D. węgla kamiennego.



Na podstawie: www.acronet.pl

Zadanie 21. (0-1pkt)

Wskaż nazwę typu gleby, która w Polsce powstała na podłożu wapiennym.

- A. Gleba bielicza.
- B. Gleba brunatna.
- C. Rędzina.
- D. Czarnoziem.

Zadanie 22. (0-1pkt)

W komunikacie Instytutu Meteorologii i Gospodarki Wodnej nadanym przez radio w czasie wakacji podano: *od jutra zaczną nad Nizinę Śląską napływać masy powietrza polarno-morskiego, znajdziemy się na skraju niżu znad Europy Zachodniej.*

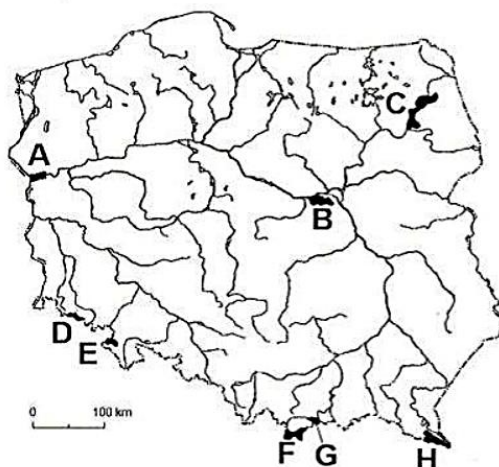
Jakiej pogody należy się spodziewać po takim komunikacie na Nizinie Śląskiej?

- A. Nastąpi ochłodzenie i opady deszczu.
- B. Nastąpi ochłodzenie brak opadów.
- C. Nastąpi ocieplenie i duże opady deszczu.
- D. Nastąpi ocieplenie i brak opadów.

Zadanie 23. (0-1pkt)

Pieniński Park Narodowy oznaczono na załączonej mapie:

- A. literą H.
- B. literą G.
- C. literą F.
- D. literą E.

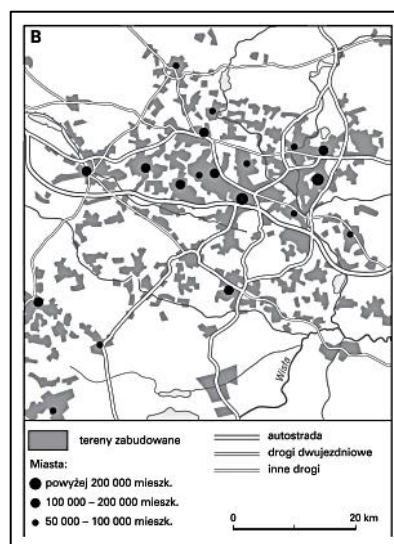


Na podstawie: *Atlas geograficzny Polski*, Warszawa 2007.

Zadanie 24. (0-1 pkt)

Schemat przedstawia jeden z rodzajów aglomeracji. Wskaż odpowiedź, która prawidłowo nazywa ten rodzaj i podaje właściwy przykład.

- A. Aglomeracja policentryczna – Górny Śląsk.
- B. Aglomeracja monocentryczna – Trójmiasto.
- C. Aglomeracja monocentryczna - Łódź.
- D. Megalopolis - Warszawa



Zadanie 25. (0-1pkt)

| Rok | Ludność w tysiącach | Urodzenia żywe | Zgony | Ogólne saldo migracji | Zgony niemowląt na 1000 urodzeń żywych |
|------|------------------------|---------------------|-------|-----------------------------|--|
| | | na 1000 mieszkańców | | | |
| 1950 | 25035 | 30,7 | 11,6 | -2,1 | 111,2 |
| 1960 | 29795 | 22,6 | 7,6 | -0,8 | 54,8 |
| 1970 | 32658 | 16,8 | 8,3 | -0,4 | 36,7 |
| 1980 | 35735 | 19,5 | 9,9 | -0,6 | 25,5 |
| 1990 | 38183 | 14,3 | 10,2 | -0,4 | 19,3 |
| 2000 | 38256 | 9,9 | 9,6 | -0,5 | 8,1 |
| 2008 | 38116 | 10,9 | 10,0 | -0,4 | 5,6 |

Na podstawie: Mały Rocznik Statystyczny Polski 2009, GUS, Warszawa 2009

Zaznacz poprawne dokończenie zdania. W roku 2000 w wyniku migracji liczba ludności Polski

- A. zwiększyła się o 19.128 osób.
- B. zmniejszyła się o 19.128 osób.
- C. zmniejszyła się o 500 osób.
- D. zwiększyła się o 500 osób.

Zadanie 26. (0-1 pkt)

Mapa ilustruje regiony Polski zamieszkałe przez cztery społeczności etniczne. Cyfrą 1

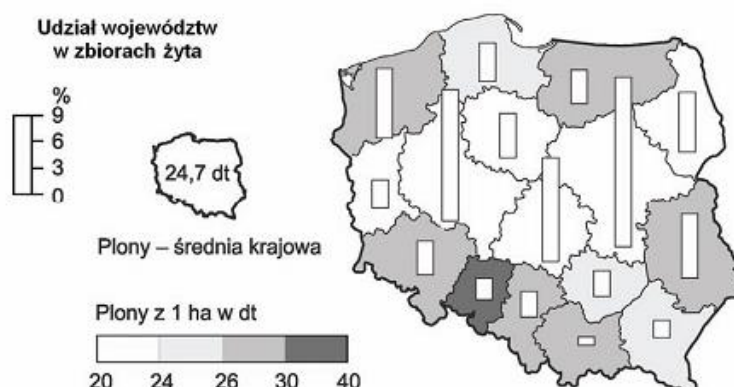
oznaczono region zamieszkały przez:

- A. Kurpiów.
- B. Podhalań.
- C. Łowiczan.
- D. Kaszubów.



Zadanie 27. (0-1pkt)

Mapa ilustruje plony i zbiory żyta w Polsce w roku 2008.



Największy udział w zbiorach żyta mają województwa:

- A. opolskie, dolnośląskie, lubelskie.
- B. mazowieckie, wielkopolskie, łódzkie.
- C. wielkopolskie, świętokrzyskie, mazowieckie.
- D. kujawsko-pomorskie, świętokrzyskie, mazowieckie.

Zadanie 28. (0-1 pkt)

Na mapie numerami 1, 2, 3 i 4 oznaczono lokalizację polskich portów nad Bałtykiem.

Port w Kołobrzegu oznaczono:

- A. numerem 1.
- B. numerem 2.
- C. numerem 3.
- D. numerem 4.



Zadanie 29. (0-1 pkt)

Do pozaprzrodniczych czynników rozwoju rolnictwa **nie zaliczamy**:

- A. wielkości gospodarstw.
- B. poziomu mechanizacji.
- C. chemizacji.
- D. żyzności gleby.

Zadanie 30. (0-1 pkt)

Obecnie na liście miejsc w Polsce wpisanych na listę światowego dziedzictwa UNESCO. znajduje się 15 obiektów. Stare Miasto w Zamościu znajduje się:

- A. na ilustracji 1.
- B. na ilustracji 2.
- C. na ilustracji 3.
- D. na ilustracji 4.

1.



2.



3.




4.



Zadanie 31. (0-1pkt)

Afrykę od Europy oddziela:

- A. Przesmyk Sueski.
- B. Cieśnina Beringa.
- C. Przesmyk Panamski.
- D. Cieśnina Gibraltarska.



Zadanie 32. (0-1 pkt)

Wraz z Polską do Unii Europejskiej w roku 2004 weszli:

- A. Niemcy i Litwa.
- B. Białoruś i Słowacja.
- C. Czechy i Litwa.
- D. Rosja i Niemcy.

Zadanie 33. (0-1pkt)

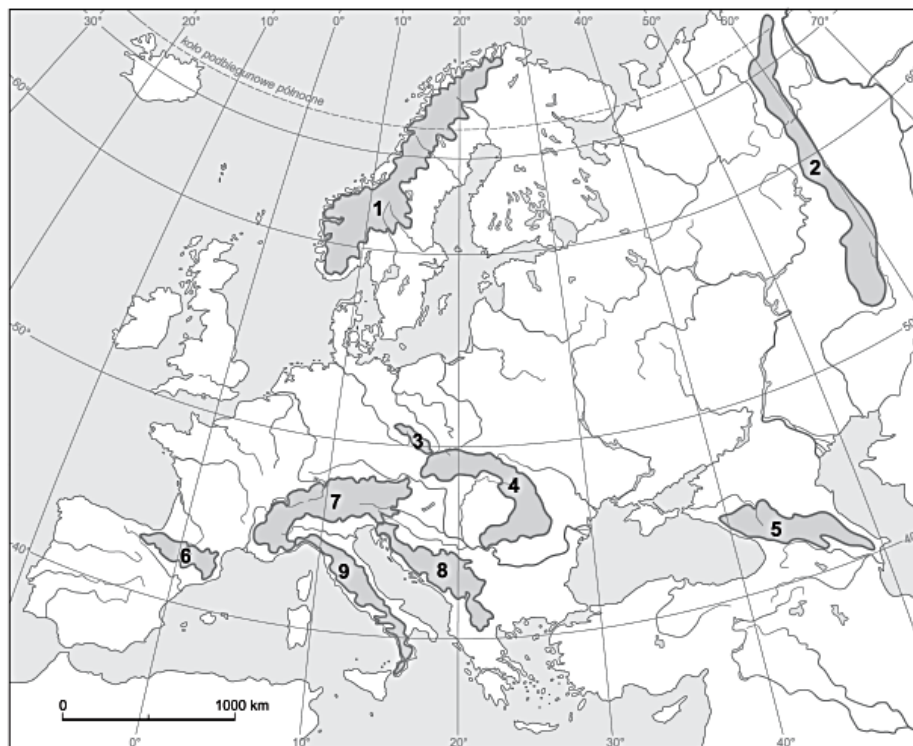
Do najważniejszych problemów społecznych krajów Europy Środkowej i Wschodniej zaliczamy:

- A. ujemny lub bliski zeru przyrost naturalny.
- B. małą gęstość zaludnienia.
- C. stale rosnącą wartość współczynnika HDI.
- D. znaczne zróżnicowanie religijne.

Zadanie 34. (0-1 pkt)

Na mapie zaznaczono położenie głównych pasm górskich w Europie. Cyfrą 8 oznaczono:

- A. Pireneje.
- B. Góry Dynarskie.
- C. Apeniny.
- D. Kaukaz.



Zadanie 35. (0-1pkt)

Wielbłądy są fizjologicznie przystosowane do życia w warunkach suchego i gorącego klimatu. Przedstawiony na fotografii Baktريان zamieszkuje:

- A. Środkową Azję i Pustynię Gobi.
- B. Południowo-zachodnią Azję.
- C. Północną Afrykę.
- D. Środkową Australię.



BRUDNOPIS