



Kuratorium Oświaty  
w Szczecinie

## **Konkurs Wiedzy o Społeczeństwie dla uczniów szkół podstawowych województwa zachodniopomorskiego w roku szkolnym 2023/2024**

### **Etap rejonowy**

#### **Drogi Uczniu!**

Przed przystąpieniem do rozwiązywania zadań prosimy, żebyś zapoznał się z poniższymi wskazówkami:

1. Masz do rozwiązania 45 zadań. Punktacja za każde z zadań podana jest przy jego numerze – 1 punkt.
2. Wszystkie zadania to zadania zamknięte. Każde zawiera **4 odpowiedzi**, z których **tylko jedna jest poprawna**. Znajdź ją i zaznacz.
3. W przypadku pomyłki błędną odpowiedź obwiedź kółkiem i zaznacz nową, poprawną. Jeżeli zaznaczysz więcej niż jedną odpowiedź bez wskazania, która jest prawidłowa, to żadna z nich nie będzie uznana.
4. Za rozwiązanie wszystkich zadań możesz otrzymać łącznie **45 punktów**.
5. Uważnie czytaj wszystkie polecenia.
6. Pisz tylko długopisem/piórem; nie używaj ołówka, gumki ani korektora.
7. Po zakończeniu pracy sprawdź, czy udzieliłeś wszystkich odpowiedzi.
8. Czas rozwiązywania zadań: **90 minut**.

**Powodzenia!**

**Zadanie 1. 1pkt**

Człowiek jest istotą społeczną, ponieważ:

- a) podlega socjalizacji tylko w rodzinie i w gronie rówieśników
- b) oprócz potrzeb I rzędu posiada także zdolności umysłowe
- c) podlega zachodzącym w społeczeństwie procesom, ale sam nie ma na nie wpływu
- d) podlega zachodzącym w społeczeństwie procesom oraz sam wpływa na funkcjonowanie tego społeczeństwa

**Zadanie 2. 1pkt**

„Wielki wóz, to jedyny wóz, którego Polacy nie ukradną” mawiali nasi zachodni sąsiedzi.

Zaznacz, na jakie zjawisko społeczne wskazuje powyższe stwierdzenie.

- a) nietolerancji kradzieży
- b) wykluczenia rasowego
- c) stereotypizacji narodów
- d) dyskryminacji społecznej

**Zadanie 3. 1pkt**

Elliot Aronson zdefiniował to zjawisko jako zmianę zachowania lub opinii człowieka spowodowaną rzeczywistym lub wyobrażonym naciskiem ze strony grupy lub innej osoby.

Opracowanie własne

Zaznacz prawidłową nazwę tego zjawiska.

- a) konformizm
- b) nonkonformizm
- c) antykonformizm
- d) legalizm

#### **Zadanie 4. 1pkt**

Sytuacja rodzin w Stanach Zjednoczonych.

Jak wykazał Thomas Hertz z American University w ciągu ostatnich 35 lat tylko 6 procent Amerykanów pochodzących z najbiedniejszych rodzin, awansowało do warstwy najzamożniejszej. O zamożności decyduje dziś przede wszystkim wykształcenie, uzyskiwane w elitarnych szkołach mieszczących się w „lepszych” dzielnicach i kosztujących majątek, które gwarantują dostanie się do najlepszych uniwersytetów. Starają się one wprowadzić zapewnić dostęp także młodzieży biedniejszej- służą temu m.in. wyrównawcze systemy stypendialne- ale działają także mechanizmy utrwalania kastowości, jak przywileje dla dzieci absolwentów. Na większości uczelni z Ligi Bluszczowej (Ivy League) stanowią one 10-15 procent każdego rocznika. Potomkowie absolwentów Harvarda mają trzykrotnie większe szanse na przyjęcie na tę uczelnię niż reszta kandydatów. W efekcie około trzech czwartych studentów 146 najlepszych wyższych uczelni w USA pochodzi z rodzin o najwyższych dochodach.

T. Zalewski, *Inne Stany. Czym różnią się od nas Amerykanie*, Warszawa 2011, s. 39-40.

Zaznacz funkcję rodziny, o której pisze autor.

- a) ekonomiczna
- b) rekreacyjna
- c) opiekuńczo-zabezpieczająca
- d) stratyfikacyjna

#### **Zadanie 5. 1pkt**

Koncepcję tego społeczeństwa stworzył Henri Bergson a spopularyzował Karl R. Popper.

Według Poppera społeczeństwo to charakteryzuje się tolerancją, pluralizmem, swobodą wyrażania poglądów, wpływem na decyzje władz i demokratyzacją procesów społecznych.

Opracowanie własne

Nazwij tę koncepcję.

- a) koncepcja społeczeństwa industrialnego
- b) koncepcja społeczeństwa globalnego
- c) koncepcja społeczeństwa otwartego
- d) koncepcja społeczeństwa zamkniętego

### Zadanie 6. 1pkt






Jaką działalnością społeczną zajmuje się organizacja, której logo przedstawiono powyżej?

- a) niesieniem pomocy osobom uzależnionym od substancji psychoaktywnych i alkoholu
- b) niesieniem pomocy osobom ze spektrum autyzmu
- c) niesieniem pomocy osobom zadłużonym w parabankach
- d) niesieniem pomocy stypendialnej dla zdolnych, ale biednych uczniów

### Zadanie 7. 1pkt

Odpowiedz, z jakim ruchem związana była działalność każdej z postaci, które przedstawiają poniższe zdjęcia.



- a) z ruchem na rzecz równouprawnienia kobiet
- b) z ruchem na rzecz wykluczonych społecznie mniejszości seksualnych
- c) z ruchem na rzecz praw obywatelskich
- d) z ruchem na rzecz wyzwolenia narodów spod władzy totalitarnej

### **Zadanie 8. 1 pkt**

O jednej z postaw wobec narodu.

[...] jest przekonaniem według którego interes własnego narodu jest nadrzędny wobec interesu jednostki, grup społecznych, czy społeczności regionalnych. Naród jest uznawany za najwyższego suwerena państwa, a państwo narodowe za najwłaściwszą formę organizacji społeczności, złączonej wspólnotą pochodzenia, języka, historii i kultury. [...] przedkłada interes własnego narodu nad interesami innych narodów, zarówno wewnątrz kraju (mniejszości narodowe lub etniczne), jak i na zewnątrz (narody sąsiednie).

<https://tiny.pl/r88h6>

Nazwij zaprezentowaną powyżej postawę.

- a) kosmopolityzm
- b) nacjonalizm
- c) patriotyzm
- d) apartheid

### **Zadanie 9. 1pkt**

Które mniejszości, według ustawy o mniejszościach narodowych i etnicznych oraz o języku regionalnym z 6 stycznia 2005 r. posiadają status mniejszości etnicznej w Polsce?

- a) Niemcy- Żydzi- Łemkowie- Romowie
- b) Ukraińcy- Karaimi- Łemkowie- Ormianie
- c) Ormianie- Żydzi- Tatarzy- Białorusini
- d) Karaimi- Łemkowie- Romowie- Tatarzy

### **Zadanie 10. 1pkt**

Poniższe cechy są charakterystyczne dla jednej z postaw obywatelskich. Zaznacz, której.

Jawność działania, bezprawność, niestosowanie przemocy, działalność w interesie publicznym, gotowość poniesienia kary.

- a) postawa cywilnej odwagi
- b) postawa troski o dobro wspólne
- c) postawa obywatelskiego nieposłuszeństwa
- d) postawa obywatelskiego posłuszeństwa

**Zadanie 11. 1pkt**

Organizacje non profit, to takie, które:

- a) w swojej działalności kierują się zyskiem
- b) skupiają się na działalności politycznej
- c) obejmują swoją działalnością różne sfery życia publicznego i działają charytatywnie
- d) to inaczej fundacje i stowarzyszenia skupiające wolontariuszy już od 13 roku życia

**Zadanie 12. 1pkt**

Na jaką formę zaangażowania publicznego wskazują przedstawione poniżej cechy:

Wysoka frekwencja wyborcza, wysoka kultura polityczna, kapitał społeczny.

- a) partycypacji obywatelskiej
- b) kultury podporządkowanej
- c) społeczeństwa masowego
- d) społeczeństwa postindustrialnego

**Zadanie 13. 1pkt**

Prawa i obowiązki obywatela Rzeczypospolitej Polskiej spisane są w :

- a) Kodeksie cywilnym
- b) Kodeksie karnym
- c) Deklaracji Praw Człowieka i Obywatela
- d) Konstytucji RP

**Zadanie 14. 1pkt**



Zdjęcie przedstawia logo jednej z organizacji międzynarodowych zajmującej się obroną praw człowieka. Określ status formalny tej organizacji.

- a) to organizacja pozarządowa zajmująca się niesieniem pomocy więźniom politycznym
- b) to wyspecjalizowana organizacja ONZ ds. niesienia pomocy podczas kataklizmów
- c) to wyspecjalizowany trybunał do ścigania wojennych zbrodniarzy
- d) to stowarzyszenie pomocy uchodźcom

**Zadanie 15. 1pkt**

Bierne prawo wyborcze oznacza prawo do udziału w:

- a) wyborze kandydatów na stanowiska państwowe i samorządowe
- b) kandydowaniu i byciu wybranym do organu przedstawicielskiego
- c) głosowaniu na posłów, senatorów i Prezydenta RP przez pełnomocnika
- d) głosowaniu przez Internet

**Zadanie 16. 1pkt**

Wskaż, który z wymienionych poniżej myślicieli jest uważany za ideologa nowoczesnego konserwatyzmu?

- a) Karl R. Popper
- b) Eduard Bernstein
- c) Willy Brandt
- d) Edmund Burke

### **Zadanie 17. 1pkt**

To forma państwa, charakteryzująca się wewnętrzną jednolitością. Wszystkie jednostki administracyjne wchodzące w skład państwa są tak samo zorganizowane i podporządkowane organom centralnym, które określają ich ustroj i właściwość.

Państwa [...] możemy podzielić na państwa scentralizowane i zdecentralizowane.

Ustrój scentralizowany charakteryzuje się wyznaczaniem lokalnych urzędników przez rząd centralny, który sprawuje zwierzchnią władzę nad organami regionalnymi, ustrój zdecentralizowany ma miejsce, gdy organy regionalne są formowane niezależnie od rządu i istnieje dobrze rozwinięty samorząd terytorialny o znacznych kompetencjach, a władza centralna zastrzega sobie prawo do podejmowania tylko najważniejszych decyzji.

<https://tiny.pl/cl3jh>

Wskaż prawidłową nazwę scharakteryzowanej powyżej formy państwa:

- a) państwo złożone
- b) państwo unitarne
- c) państwo federacyjne
- d) państwo skonfederowane

### **Zadanie 18. 1pkt**

Zaznacz właściwy ciąg. Polska jest państwem:

- a) republiką prezydencką- państwem unitarnym- państwem o systemie rządów parlamentarnych
- b) republiką- państwem federacyjnym- państwem o systemie rządów prezydenckich
- c) republiką- państwem o systemie rządów parlamentarno-gabinetowych, państwem unitarnym
- d) republiką- państwem federacyjnym- państwem o systemie rządów semiprezydenckich

### **Zadanie 19. 1pkt**

Weto ludowe i referendum, to przykłady form:

- a) demokracji pośredniej
- b) demokracji bezpośredniej
- c) demokracji liberalnej
- d) demokracji przedstawicielskiej



**Zadanie 20. 1pkt**

Reforma administracyjna z 1999 r. zmniejszyła liczbę województw :

- a) z 45 do 16
- b) z 49 do 17
- c) z 49 do 16
- d) z 47 do 16

**Zadanie 21. 1pkt**

Na podstawie reformy administracyjnej z 1999 r. nie powstało województwo:

- a) warszawskie
- b) mazowieckie
- c) świętokrzyskie
- d) lubelskie

**Zadanie 22. 1pkt**

Które z wymienionych poniżej stanowisk w polskim systemie prawnym mogą być łączone?

- a) Prezydenta RP i posła
- b) Posła i senatora
- c) Prezydenta RP i ministra
- d) Posła i ministra

**Zadanie 23. 1pkt**



Powyższa grafika obrazuje współpracę i porozumienie czterech państw, których flagi zawiera.

Rzeczne porozumienie to:

- a) Grupa Wyszehradzka
- b) Trójkąt Weimarski
- c) Rada Państw Morza Bałtyckiego
- d) Organizacja Wyzwolenia Palestyny

**Zadanie 24. 1pkt**

Wskaż, do którego z konstytucyjnych organów w Polsce należą poniższe kompetencje:

Posiada inicjatywę ustawodawczą, powołuje sędziów, zarządza wybory do parlamentu, zwołuje Radę Gabinetową.

- a) do Sejmu
- b) do Senatu
- c) do Prezydenta RP
- d) do Prezesa Rady Ministrów

**Zadanie 25. 1pkt**

Wskaż, co łączy ze sobą wymienione poniżej państwa:

Irlandia, Austria, Grecja, Hiszpania

- a) należą do NATO
- b) wszystkie są monarchiami
- c) posiadają walutę euro
- d) należą do Rady Bezpieczeństwa ONZ

### **Zadanie 26. 1pkt**

O jednej z teorii powstania państwa.

„Umowa społeczna jest myślą w filozofii politycznej, w której próbuje się uzasadnić pochodzenie państwa bez odwoływania się do nadnaturalnego źródła władzy państwowej. W różnych koncepcjach umów społecznych źródłem pochodzenia państwa jest wola jednostek lub wola społeczna”

<https://tiny.pl/cl3jv>

Wskaż twórcę tej teorii:

- a) Ludwik Gumpłowicz
- b) Karol Marka
- c) John Locke
- d) Arystoteles

### **Zadanie 27. 1pkt**

Wskaż, której funkcji Sejmu odpowiadają poniższe kompetencje:

wypracowuje treść obowiązującej ustawy zasadniczej, uchwała ustawę zasadniczą, dokonuje zmian w treści ustawy zasadniczej.

- a) funkcji kontrolnej
- b) funkcji ustawodawczej
- c) funkcji ustrojodawczej
- d) funkcji kreacyjnej

### **Zadanie 28. 1pkt**

Wskaż, jaka to większość, kiedy liczba głosów „za” jest większa, niż suma głosów „przeciw” i „wstrzymujących się”.

- a) zwykła
- b) bezwzględna
- c) względna
- d) kwalifikowana

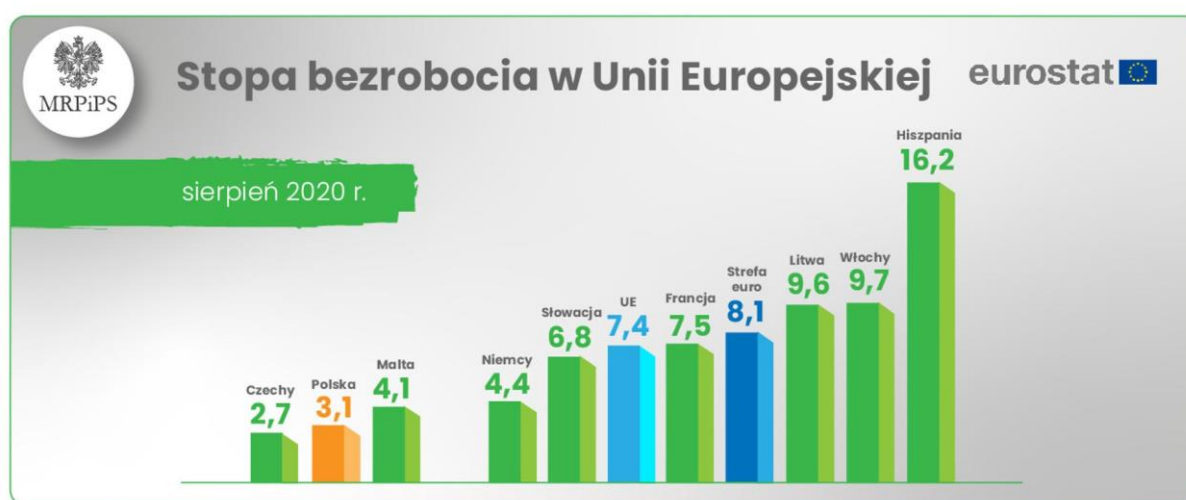
### Zadanie 29. 1pkt

Organy władzy sądowniczej wydają wyroki w imieniu:

- a) Obywateli Rzeczypospolitej Polskiej
- b) Konstytucji RP
- c) Sędziów
- d) Rzeczypospolitej Polskiej

### Zadanie 30. 1pkt

Na podstawie danych Eurostatu, zaznacz zdanie prawdziwe dotyczące bezrobocia w UE



- a) Najniższe bezrobocie jest w 3 krajach, które weszły do UE w tym samym roku
- b) Bezrobocie w Polsce jest niższe o 5 procent od bezrobocia w strefie euro
- c) Najwyższe bezrobocie jest w krajach śródziemnomorskich
- d) Najwyższe bezrobocie w Trójkącie Weimarskim jest w Niemczech

### Zadanie 31. 1pkt

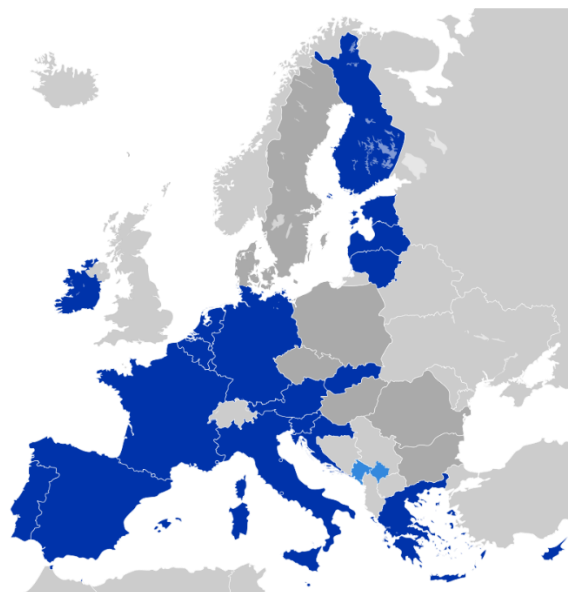
Wskaż, kogo przedstawia poniższe zdjęcie:



<https://tiny.pl/c1311>

- a) Przewodniczącą Parlamentu Europejskiego
- b) Przewodniczącą Komisji Europejskiej
- c) Przewodniczącą Rady Europy
- d) Wysokiego przedstawiciela UE ds. Zagranicznych i Polityki Bezpieczeństwa

### Zadanie 32. 1pkt



<https://tiny.pl/cpc91>

Na powyższej mapie kolorem ciemnoniebieskim wyróżniono państwa:

- a) Unii Europejskiej w 1995 r.
- b) Strefy Euro
- c) Strefy Schengen
- d) Kraje NATO w 1995 roku

### Zadanie 33. 1pkt

Poniższy tekst charakteryzuje jedną z instytucji Unii Europejskiej. Podaj którą.

Zapewnia przestrzeganie prawa wspólnotowego, orzeka o zgodności aktów prawnych wydawanych przez instytucje Wspólnot z traktatami Wspólnot, rozpoznaje spory między państwami lub między Komisją Europejską i państwami członkowskimi. Jego orzeczenia są bezpośrednio wykonywane w państwach członkowskich.

<https://tiny.pl/cl3pj>

- a) Rada Europejska
- b) Europejski Trybunał Sprawiedliwości
- c) Parlament Europejski
- d) Trybunał Rewidentów Księgowych

### Zadanie 34. 1pkt

Wskaż, w którym organie Unii Europejskiej zasiadają premierzy i głowy państw członkowskich wspólnoty.

- a) Komisja Europejska
- b) Rada Europejska
- c) Rada Unii Europejskiej
- d) Rada Europy

### Zadanie 35. 1pkt

Wskaż, jakich dwóch polityków przedstawia poniższe zdjęcie:



<https://tiny.pl/cpc96>

- a) Ministra Obrony Narodowej RP z Prezydentem Ukrainy
- b) Prezydenta Ukrainy z Emanuelem Macronem - Prezydentem Francji
- c) Wołodymyra Zełenskiego z Jensem Stoltenbergiem – Sekretarzem Generalnym NATO
- d) Prezydenta Ukrainy z Antonio Guterresem - Sekretarzem Generalnym ONZ

**Zadanie 36. 1pkt**

Wskaż, który z wymienionych poniżej organów jest organem uchwałodawczo-kontrolnym w województwie.

- a) Wojewoda
- b) Zarząd Województwa
- c) Sejmik Województwa
- d) Marszałek Województwa

**Zadanie 37. 1pkt**

Postawienie Prezydenta RP w stan oskarżenia przed Trybunałem Stanu może nastąpić w skutek:

- a) uchwały Sejmu podjętej bezwzględną większością głosów
- b) na wniosek Prokuratora Generalnego
- c) uchwały Zgromadzenia Narodowego podjętej większością 2/3 głosów
- d) uchwały Rady Ministrów

**Zadanie 38. 1pkt**

Aby zostać radnym Sejmiku województwa należy ukończyć :

- a) 18 lat
- b) 20 lat
- c) 21 lat
- d) 25 lat

**Zadanie 39. 1pkt**

Wskaż, która z poniższych kompetencji nie należy do zadań wójta:

- a) przygotowywanie projektów uchwał rady gminy
- b) powoływanie jednostek pomocniczych gminy
- c) możliwość zaciągania zobowiązań finansowych
- d) możliwość emitowania papierów wartościowych

**Zadanie 40. 1pkt**

Który z wymienionych poniżej języków nie jest językiem używanym jako pomocniczy w polskich gminach? (wg. stanu z 9.04.2019 r.)

- a) niemiecki
- b) ukraiński
- c) białoruski
- d) kaszubski

**Zadanie 41. 1pkt**

Aby na obszarze gminy mógł być używany język mniejszości jako pomocniczy, musi ona stanowić:

- a) co najmniej 50% mieszkańców
- b) co najmniej 30% mieszkańców
- c) co najmniej 25% mieszkańców
- d) co najmniej 20% mieszkańców

**Zadanie 42. 1pkt**

Które z wymienionych poniżej uprawnień nie należy do prerogatyw Prezydenta RP?

- a) zarządzanie wyborów do Sejmu
- b) zarządzanie wyborów do organów samorządu terytorialnego
- c) zwoływanie pierwszego posiedzenia Sejmu
- d) prawo łaski

**Zadanie 43. 1pkt**

Rzecznikiem Praw Dziecka jest obecnie :

- a) Elżbieta Witek
- b) Marian Banaś
- c) Adam Bodnar
- d) Mikołaj Pawlak

**Zadanie 44. 1pkt**

Zaznacz właściwy organ władzy państwowej, który według Konstytucji RP uchwała projekt budżetu państwa.

- a) Sejm
- b) Senat
- c) Rada Ministrów
- d) Ministerstwo Finansów

**Zadanie 45. 1pkt**

Według Konstytucji RP organami nadzoru nad działalnością samorządu terytorialnego są:

- a) Sejm i Prezydent RP
- b) Prezes Rady Ministrów i wojewodowie
- c) marszałek województwa i sejmik
- d) Naczelny Sąd Administracyjny i Najwyższa Izba Kontroli