

**Konkurs Wiedzy o Społeczeństwie
dla gimnazjalistów województwa zachodniopomorskiego
w roku szkolnym 2018/2019**

Etap szkolny

KLUCZ ODPOWIEDZI



Zadanie 1 (3 pkt.)

Określ do jakich rodzajów grup należą:

Grupa/kryterium	Wielkość	Charakter Członkostwa	Rodzaj więzi	Stopień sformalizowania
KLASA 1B	mała	otwarta/ograniczona	wtórna	sformalizowana
RODZINA	mała	Zamknięta	pierwotna	sformalizowana
PARTIA	duża	Otwarta/ograniczona	wtórna	sformalizowana

Zadanie 2 (1 pkt)

Przeczytaj opis poniżej i odpowiedz na pytanie.

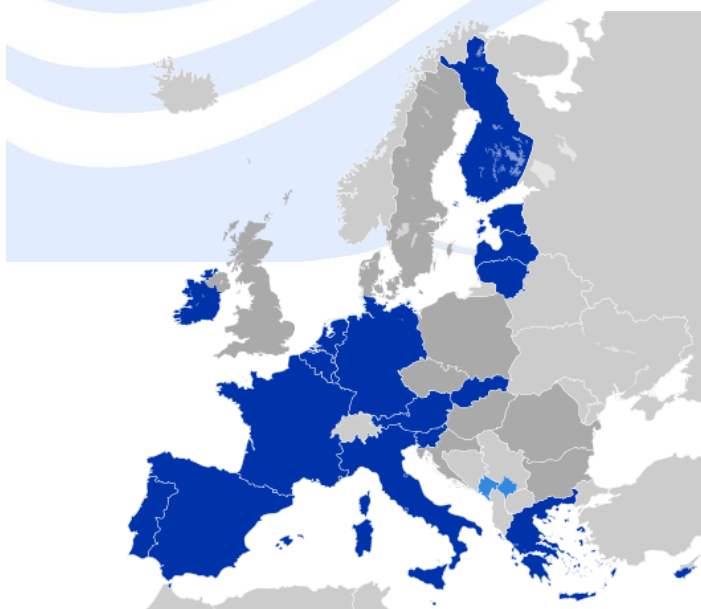
Jest to proces rozwoju społecznego człowieka, kształtowania jego osobowości, przekazywania systemu wartości, norm, wzorców zachowań obowiązujących w społeczeństwie oraz umiejętności niezbędnych dorosłemu człowiekowi w odgrywaniu przez niego różnych ról społecznych.

Napisz o jakim procesie mówi powyższy fragment.

socjalizacja

Zadanie 3 (2 pkt)

Dokonaj analizy mapy i odpowiedz na pytania.



A. Ciemnym kolorem zaznaczono państwa należące do:

Strefa Euro

B. Wybierz datę utworzenia tej strefy:

1. 1993
2. 1999
3. 2008
4. 2010

Zadanie 4 (1 pkt)

Która cecha nie jest cechą państwa:

- a) terytorium
- b) powszechność,
- c) suwerenność,
- d) poczucie odrębności.

Zadanie 5 (1 pkt)

Burmistrz wybierany jest w:

- a) miastach poniżej 50000 mieszkańców
- b) miastach poniżej 100000 mieszkańców.
- c) miastach powyżej 100000 mieszkańców,
- d) w gminach wiejskich.

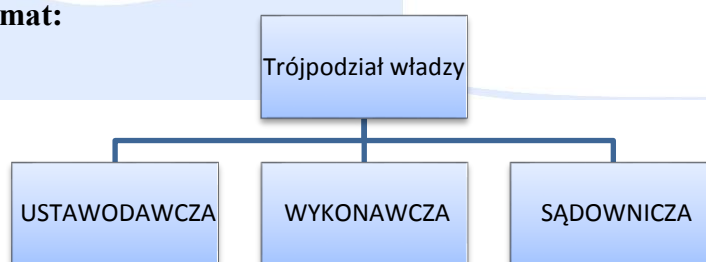
Zadanie 6 (2 pkt)

Wymień dwa działania związane z funkcją zewnętrzną państwa:

m.in. stosunki dyplomatyczne, zawieranie umów, tworzenie organizacji międzynarodowych, uczestnictwo w organizacjach międzynarodowych, prowadzenie wojen, podpisywanie pokoi, opieka nad obywatelem za granicą.

Zadanie 7 (3 pkt)

Uzupełnij schemat:



Zadanie 8 (2 pkt)

Wstaw w tabeli odpowiednią nazwę opisanych zasad demokracji.

Opis	Zasada
Oznacza, że najwyższa władza należy do narodu, który sprawuje ją bezpośrednio lub przez przedstawicieli.	Suwerenności narodu
Oznacza swobodę działania organizacji społecznych, politycznych, gospodarczych	pluralizmu

Zadanie 9 (3 pkt)

1. Połącz wydarzenia z datami

1	Wstąpienie Polski do Rady Europy	A	1999
2	Wstąpienie Polski do NATO	B	2004
3	Wstąpienie Polski do UE.	C	1989
4		D	1991

1. D 2. A 3. B

Zadanie 10 (2 pkt)

Po zapoznaniu się z tekstem wykonaj polecenie.

Kultura polityczna to zespół politycznych postaw, wartości i przekonań jednostek oraz całego społeczeństwa, charakterystycznych dla danego okresu i ukształtowanych pod wpływem tradycji historycznych.

Wyróżniamy trzy rodzaje kultury politycznej. Uzupełnij brakujące:

1. Zaściankowa
2. Poddańcza
3. Uczestnicząca

Zadanie 11 (3 pkt)

Wyjaśnij skróty:

ONZ	Organizacja Narodów Zjednoczonych
WHO	Światowa Organizacja Zdrowia
WTO	Światowa Organizacja Handlu

Zadanie 12 (1 pkt)

Przeczytaj opis poniżej i odpowiedz na pytanie.

Jest to organizacja ustanowiona przez założyciela w celu realizacji określonych zadań społecznie użytecznych np.: dla ochrony zdrowia, rozwoju nauki, czy ochrony środowiska.

Powyższy opis dotyczy:

FUNDACJA

Zadanie 13 (1 pkt)

Inicjatywę ustawodawczą dotyczącą ustawy budżetowej w Rzeczypospolitej Polskiej posiada:

- a. 1/5 posłów, Senat, Prezydent RP,
- b. posłowie, Senat, Prezydent RP, Rada Ministrów, 100 tys. obywateli
- c. Rada Ministrów,
- d. Posłowie.

Zadanie 14 (1 pkt)

Z wyborów w Polsce nie pochodzi/nie pochodzą:

- a. Posłowie,
- b. Rada Ministrów,
- c. Prezydent RP,
- d. Senatorowie.

Zadanie 15 (3 pkt)

Wstaw na mapie odpowiednie cyfry województw, powiązane z opisami:



- 1. Sąsiaduje z województwami: kujawsko-pomorskim i lubelskim.
- 2. Jest województwem przygranicznym i posiada dwie „stolice”.
- 3. Graniczy z Rosją (najdłuższa granica).

Zadanie 16 (1 pkt)

Podaj skrót i pełną nazwę organizacji kryjącej się za poniższym logo.



NATO Organizacja Paktu Północnoatlantyckiego

Zadanie 17 (3 pkt)

Wypisz 3 konstytucyjne obowiązki obywatela RP:

Wierność RP, przestrzegania prawa, ponoszenia ciężarów publicznych (podatki), obrona Ojczyzny, dbałość o stan środowiska, nauki do 18 roku życia

Zadanie 18 (3 pkt)

Dopasuj wymienione prawa (wpisz cyfry) do odpowiednich rodzajów praw i wolności obywateli.

Osobiste	Polityczne	Socjalne
1, 5	2, 4	3, 6

1. Prawo do sprawiedliwego procesu
2. Wolność zrzeszania
3. Prawo do ochrony zdrowia
4. Dostęp do służby publicznej
5. Prawo wyrażania poglądów
6. Prawo do nauki


Zadanie 19 (3 pkt)

Wymień 3 główne organy Sejmu:

Marszałek Sejmu, Prezydium Sejmu, Konwent Seniorów, Komisje

Zadanie 20 (2 pkt)

Wyjaśnij krótko problem przedstawiony na zdjęciu.



Rysunek przedstawia problem zniszczenia środowiska naturalnego oraz zakłamanie człowieka (fotografia na tle sztucznych drzew).

Zadanie 21 (6 pkt)

W tabeli znakiem X zaznacz państwa należące do STREFY SCHENGEN i STREFY EURO.

PAŃSTWO	SCHENGEN	EURO
SZWECJA	X	
CYPR		X
RUMUNIA		
LITWA	X	X
RUMUNIA		
IRLANDIA		X

Zadanie 22 (4 pkt)

Wisz w tabelę odpowiednie organy trybu ustawodawczego.

Orzeka o zgodności ustawy z konstytucją	Trybunał Konstytucyjny
Rozpatruje projekt ustawy w trzech czytaniach	Sejm
Ma prawo weta	Prezydent RP
Może wprowadzić do ustawy poprawki	Senat

Zadanie 23 (6 pkt)

Uporządkuj prezydentów RP w kolejności sprawowania urzędu.

Lech Wałęsa, Andrzej Duda, Bronisław Komorowski, Wojciech Jaruzelski, Lech Kaczyński, Aleksander Kwaśniewski.

1. Wojciech Jaruzelski
2. Lech Wałęsa
3. Aleksander Kwaśniewski
4. Lech Kaczyński
5. Bronisław Komorowski
6. Andrzej Duda

Zadanie 24 (4 pkt)

Określ, które z poniższych zdań są prawdziwe (wpisz PRAWDA), a które fałszywe (wpisz FAŁSZ).

	PRAWDA/FAŁSZ
Organem stanowiącym w województwie jest Marszałek Województwa.	FAŁSZ
Prezydent miasta wybierany jest wyłącznie w gminach na prawach powiatu.	FAŁSZ
Organem wykonawczym w gminie jest starosta	FAŁSZ
Organy samorządu terytorialnego wybierane są co 4 lata.	PRAWDA

Zadanie 25 (1 pkt)

Jakiego elementu gospodarki dotyczą wymienione funkcje:

miernik wartości, środek wymiany, środek płatniczy

Są to funkcje: PIENIĄDZA