

**Konkurs Wiedzy o Społeczeństwie
dla gimnazjalistów województwa zachodniopomorskiego
w roku szkolnym 2018/2019**

Etap szkolny

Drogi Uczniu!

Przed przystąpieniem do rozwiązywania zadań prosimy, żebyś zapoznał się z poniższymi wskazówkami:

1. Masz do rozwiązania 25 zadań. Punktacja za każde z zadań podana jest przy jego numerze.
2. Zadania zamknięte zawierają **po 4 odpowiedzi**, z których **tylko jedna jest poprawna**. Znajdź ją i zaznacz krzyżykiem.
3. W przypadku pomyłki błędą odpowiedź obwiedź kółkiem i zaznacz nową, poprawną. Jeżeli zaznaczysz więcej niż jedną odpowiedź bez wskazania, która jest prawidłowa, to żadna z nich nie będzie uznana.
4. **Pozostałe zadania to zadania otwarte.** Odpowiedzi na te zadania udzielaj wyłącznie w arkuszu testu.
5. Za rozwiązanie wszystkich zadań możesz otrzymać łącznie **62 punkty**.
6. Uważnie czytaj wszystkie polecenia.
7. Zapisz wszystkie istotne etapy rozwiązania każdego zadania.
8. Pisz tylko długopisem/piórem; nie używaj ołówka, gumki ani korektora.
9. Po zakończeniu pracy sprawdź, czy udzieliłeś wszystkich odpowiedzi.
10. Czas rozwiązywania zadań: **60 minut**.

Powodzenia!

Zadanie 1 (3 pkt.)

Określ do jakich rodzajów grup należą:

Grupa/kryterium	Wielkość	Charakter członkostwa	Rodzaj więzi	Stopień sformalizowania
KLASA 1B				
RODZINA				
PARTIA				

Zadanie 2 (1 pkt)

Przeczytaj opis poniżej i odpowiedz na pytanie.

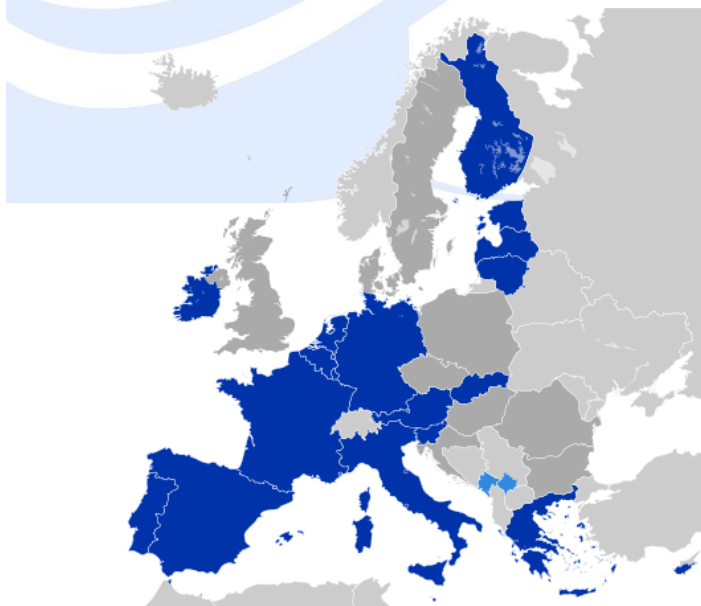
Jest to proces rozwoju społecznego człowieka, kształtowania jego osobowości, przekazywania systemu wartości, norm, wzorców zachowań obowiązujących w społeczeństwie oraz umiejętności niezbędnych dorosłemu człowiekowi w odgrywaniu przez niego różnych ról społecznych.

Napisz o jakim procesie mówi powyższy fragment.

.....

Zadanie 3 (2 pkt)

Dokonaj analizy mapy i odpowiedz na pytania.



A. Ciemnym kolorem zaznaczono państwa należące do:

.....

B. Wybierz datę utworzenia tej strefy:

1. 1993
2. 1999
3. 2008
4. 2010

Zadanie 4 (1 pkt)

Która cecha nie jest cechą państwa:

- a) terytorium
- b) powszechność,
- c) suwerenność,
- d) poczucie odrębności.

Zadanie 5 (1 pkt)

Burmistrz wybierany jest w:

- a) miastach poniżej 50000 mieszkańców
- b) miastach poniżej 100000 mieszkańców,
- c) miastach powyżej 100000 mieszkańców,
- d) w gminach wiejskich.

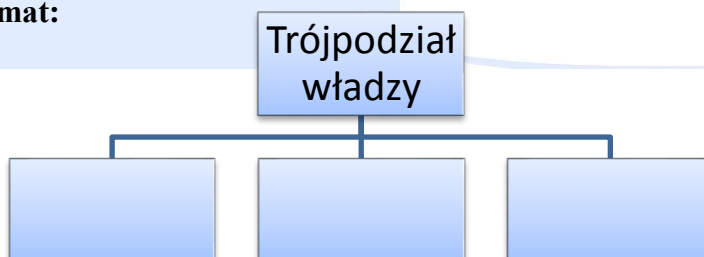
Zadanie 6 (2 pkt)

Wymień dwa działania związane z funkcją zewnętrzną państwa:

1.
2.

Zadanie 7 (3 pkt)

Uzupełnij schemat:



Zadanie 8 (2 pkt)

Wstaw w tabeli odpowiednią nazwę opisanych zasad demokracji.

Opis	Zasada
Oznacza, że najwyższa władza należy do narodu, który sprawuje ją bezpośrednio lub przez przedstawicieli.	
Oznacza swobodę działania organizacji społecznych, politycznych, gospodarczych	

Zadanie 9 (3 pkt)

1. Połącz wydarzenia z datami

1	Wstąpienie Polski do Rady Europy	A	1999
2	Wstąpienie Polski do NATO	B	2004
3	Wstąpienie Polski do UE.	C	1989
4		D	1991

1. 2. 3.

Zadanie 10 (2 pkt)

Po zapoznaniu się z tekstem wykonaj polecenie.

Kultura polityczna to zespół politycznych postaw, wartości i przekonań jednostek oraz całego społeczeństwa, charakterystycznych dla danego okresu i ukształtowanych pod wpływem tradycji historycznych.

Wyróżniamy trzy rodzaje kultury politycznej. Uzupełnij brakujące:

1.
2. Poddańcza
3.

Zadanie 11 (3 pkt)

Wyjaśnij skróty:

ONZ	
WHO	
WTO	

Zadanie 12 (1 pkt)

Przeczytaj opis poniżej i odpowiedz na pytanie.

Jest to organizacja ustanowiona przez założycieli w celu realizacji określonych zadań społecznie użytecznych np.: dla ochrony zdrowia, rozwoju nauki, czy ochrony środowiska.

Powyższy opis dotyczy:

.....

Zadanie 13 (1 pkt)

Inicjatywę ustawodawczą dotyczącą ustawy budżetowej w Rzeczypospolitej Polskiej posiada:

- a. 1/5 posłów, Senat, Prezydent RP,
- b. posłowie, Senat, Prezydent RP, Rada Ministrów, 100 tys. obywateli
- c. Rada Ministrów,
- d. Posłowie..

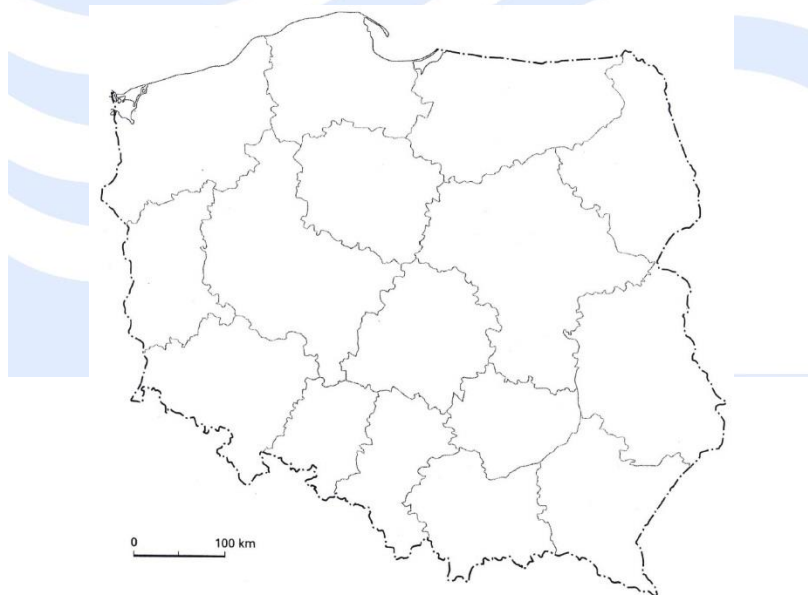
Zadanie 14 (1 pkt)

Z wyborów w Polsce nie pochodzi/nie pochodzą:

- a. Posłowie,
- b. Rada Ministrów,
- c. Prezydent RP,
- d. Senatorowie.

Zadanie 15 (3 pkt)

Wstaw na mapie odpowiednie cyfry województw, powiązane z opisami:



1. Sąsiaduje z województwami: kujawsko-pomorskim i lubelskim.
2. Jest województwem przygranicznym i posiada dwie „stolice”.
3. Graniczy z Rosją (najdłuższa granica).

Zadanie 16 (1 pkt)

Podaj skrót i pełną nazwę organizacji kryjącej się za poniższym logo.



.....

.....

Zadanie 17 (3 pkt)

Wypisz 3 konstytucyjne obowiązki obywatela RP:

1.
2.
3.

Zadanie 18 (3 pkt)

Dopasuj wymienione prawa (wpisz cyfry) do odpowiednich rodzajów praw i wolności obywateli.

Osobiste	Polityczne	Socjalne

1. Prawo do sprawiedliwego procesu
2. Wolność zrzeszania
3. Prawo do ochrony zdrowia
4. Dostęp do służby publicznej
5. Prawo wyrażania poglądów
6. Prawo do nauki


Zadanie 19 (3 pkt)

Wymień 3 główne organy Sejmu:

1.
2.
3.

Zadanie 20 (2 pkt)

Wyjaśnij krótko problem przedstawiony na zdjęciu.

**Zadanie 21 (6 pkt)**

W tabeli znakiem X zaznacz państwa należące do STREFY SCHENGEN i STREFY EURO.

PAŃSTWO	SCHENGEN	EURO
SZWECJA		
CYPR		
RUMUNIA		
LITWA		
RUMUNIA		
IRLANDIA		

Zadanie 22 (4 pkt)

Wpisz w tabelę odpowiednie organy trybu ustawodawczego.

Orzeka o zgodności ustawy z konstytucją	
Rozpatruje projekt ustawy w trzech czytaniach	
Ma prawo weta	
Może wprowadzić do ustawy poprawki	

Zadanie 23 (6 pkt)

Uporządkuj prezydentów RP w kolejności sprawowania urzędu.

Lech Wałęsa, Andrzej Duda, Bronisław Komorowski, Wojciech Jaruzelski, Lech Kaczyński, Aleksander Kwaśniewski.

1.
2.
3.
4.
5.
6.

Zadanie 24 (4 pkt)

Określ, które z poniższych zdań są prawdziwe (wpisz PRAWDA), a które fałszywe (wpisz FAŁSZ).

	PRAWDA/FAŁSZ
Organem stanowiącym w województwie jest Marszałek Województwa.	
Prezydent miasta wybierany jest wyłącznie w gminach na prawach powiatu.	
Organem wykonawczym w gminie jest starosta	
Organy samorządu terytorialnego wybierane są co 4 lata.	

Zadanie 25 (1 pkt)

Jakiego elementu gospodarki dotyczą wymienione funkcje:

miernik wartości, środek wymiany, środek płatniczy

Są to funkcje: