



**Wydział** Test

Pytanie **1**

Punkty maks.: 1,00

Przez umowę o dzieło strony zobowiązują się do:

Wybierz wszystkie poprawne:

- a. przyjmujący zamówienie zobowiązuje się do wykonania oznaczonego dzieła, a zamawiający do zapłaty wynagrodzenia
- b. oszczędnego gospodarowania materiałami zakupionymi do realizacji dzieła
- c. zapewnienia odpowiedniej jakości dzieła
- d. terminowego wykonania dzieła

Pytanie **2**

Punkty maks.: 1,00

Spory o właściwość pomiędzy rzecznikami dyscyplinarnymi rozstrzyga:

Wybierz wszystkie poprawne:

- a. Główny Geodeta Kraju
- b. wojewódzka komisja dyscyplinarna
- c. wojewoda
- d. wojewódzki inspektor nadzoru geodezyjnego i kartograficznego

Pytanie **3**

Punkty maks.: 1,00

Geodezyjne pomiary sytuacyjne, mające na celu wznowienie znaków granicznych lub wyznaczenie punktów granicznych, wykonuje się z wykorzystaniem:

Wybierz wszystkie poprawne:

- a. materiałów zasobu umożliwiających odtworzenie położenia tych punktów w terenie
- b. współrzędnych punktów granicznych pozyskanych w ramach modernizacji ewidencji gruntów i budynków
- c. założonej w tym celu, pomiarowej osnowy sytuacyjnej
- d. opracowań na potrzeby ewidencji gruntów

Pytanie **4**

Punkty maks.: 1,00

Starosta doręcza wnioskodawcy decyzję o zezwoleniu na realizację inwestycji drogowej w odniesieniu do dróg:

Wybierz wszystkie poprawne:

- a. wojewódzkich
- b. gminnych
- c. powiatowych
- d. krajowych

Pytanie **5**

Punkty maks.: 1,00

Wykonawca prac geodezyjnych może zgłosić prace geodezyjne:

Wybierz wszystkie poprawne:

- a. do 7 dni roboczych po ich rozpoczęciu w przypadku prac zgłaszanych właściwym miejscowo starostom
- b. przed ich rozpoczęciem
- c. do 10 dni roboczych po ich rozpoczęciu

- d. do 10 dni roboczych po ich rozpoczęciu w przypadku prac zgłaszanych Głównemu Geodecie Kraju

Pytanie **6**

Punkty maks.: 1,00

Zaliczenie do kategorii dróg wojewódzkich następuje :

Wybierz wszystkie poprawne:

- a. w drodze uchwały zarządu województwa
- b. w drodze postanowienia Prezesa Rady Ministrów, po zasięgnięciu opinii właściwego wojewody
- c. w drodze uchwały sejmiku województwa
- d. w drodze uchwały zarządu województwa, po zasięgnięciu opinii zarządu powiatu

Pytanie **7**

Punkty maks.: 1,00

Poświadczenie bezpieczeństwa umożliwiające dostęp do informacji niejawnych:

Wybierz wszystkie poprawne:

- a. zawiera obligatoryjnie datę złożenia wniosku o przeprowadzenie postępowania
- b. wydaje się na okres 10 lat w przypadku dostępu do informacji niejawnych o klauzuli „poufne”
- c. po zakończeniu postępowania sprawdzającego z wynikiem pozytywnym jest przekazywane w każdym przypadku tylko wnioskodawcy
- d. zawiera obligatoryjnie wskazanie wnioskodawcy postępowania sprawdzającego

Pytanie **8**

Punkty maks.: 1,00

Organ może dokonywać zawiadomienia o decyzjach i innych czynnościach organu administracji publicznej w formie obwieszczenia pod warunkiem, że przepis szczególny nie stanowi inaczej, jeżeli w postępowaniu bierze udział:

Wybierz wszystkie poprawne:

- a. więcej niż 30 stron
- b. więcej niż 50 stron
- c. więcej niż 20 stron
- d. więcej niż 10 stron

Pytanie **9**

Punkty maks.: 1,00

Z wnioskiem o rozpatrzenie sporu kompetencyjnego między organami jednostek samorządu terytorialnego a organami administracji rządowej przez sąd administracyjny może wystąpić:

Wybierz wszystkie poprawne:

- a. minister właściwy do spraw sprawiedliwości, Prokurator Generalny
- b. Rzecznik Praw Obywatelskich
- c. strona
- d. minister właściwy do spraw administracji publicznej

Pytanie **10**

Punkty maks.: 1,00

W bazie BDOT500 gromadzi się informacje dotyczące:

Wybierz wszystkie poprawne:

- a. wód
- b. budynków projektowanych

- c. sieci uzbrojenia terenu
- d. rzeźby terenu

Pytanie **11**

Punkty maks.: 1,00

Prezydent Rzeczypospolitej Polskiej:

Wybierz wszystkie poprawne:

- a. jest wybierany na 4-letnią kadencję
- b. jest najwyższym przedstawicielem Rzeczypospolitej Polskiej
- c. jest najwyższym zwierzchnikiem Sił Zbrojnych Rzeczypospolitej Polskiej
- d. kieruje administracją rządową

Pytanie **12**

Punkty maks.: 1,00

Dla lokali wchodzących w skład nieruchomości lokalowych w rejestrze cen nieruchomości przechowuje się następujące informacje:

Wybierz wszystkie poprawne:






- a. liczbę izb
- b. adres lokalu
- c. kwotę podatku CIT
- d. powierzchnię pomieszczeń przynależnych do lokalu

Pytanie **13**

Punkty maks.: 1,00

Które znaki kartograficzne stanowią obiekty bazy geodezyjnej ewidencji sieci uzbrojenia terenu (GESUT):

Wybierz wszystkie poprawne:

- a. 
- b. 
- c. 
- d.  

Pytanie **14**

Punkty maks.: 1,00

Prawnej kontroli metrologicznej podlegają przyrządy pomiarowe, które mogą być stosowane:

Wybierz wszystkie poprawne:

- a. w ochronie praw konsumenta
- b. w ochronie porządku publicznego
- c. w ochronie środowiska
- d. w ochronie bezpieczeństwa

Pytanie **15**

Punkty maks.: 1,00

Osoba, której odebrano uprawnienia zawodowe w dziedzinie geodezji i kartografii może ubiegać się o ponowne ich uzyskanie po upływie:

Wybierz wszystkie poprawne:

- a. 3 lat od dnia ich odebrania

- b. 2 lat od dnia ich odebrania
- c. 5 lat od dnia ich odebrania
- d. 1 roku od dnia ich odebrania

Pytanie **16**

Punkty maks.: 1,00

Procedurę wznowienie znaków granicznych kończy:

Wybierz wszystkie poprawne:

- a. decyzja wójta (burmistrza, prezydenta miasta) o ustaleniu granicy
- b. w przypadku zgodnego podpisania protokołu decyzja o umorzeniu postępowania administracyjnego
- c. pouczenie ze strony mogą wystąpić do wójta (burmistrza, prezydenta miasta) o rozgraniczenie
- d. żadne z wymienionych

Pytanie **17**

Punkty maks.: 1,00

Rękojmia wiary publicznej ksiąg wieczystych nie chroni:

Wybierz wszystkie poprawne:

- a. dokonanych na rzecz nabywcy działającego w złej wierze
- b. rozporządzeń nieodpłatnych
- c. służebności drogi koniecznej
- d. prawa dożywocia

Pytanie **18**

Punkty maks.: 1,00

W rozumieniu Kodeksu postępowania administracyjnego wojewódzki inspektor nadzoru geodezyjnego i kartograficznego :

Wybierz wszystkie poprawne:

- a. rozstrzyga spory kompetencyjne pomiędzy starostami
- b. jest organem wyższego stopnia w stosunku do organów administracji geodezyjnej i kartograficznej
- c. jest organem pierwszej instancji w sprawach określonych w ustawie Prawo geodezyjne i kartograficzne
- d. jest organem pierwszej instancji w sprawach określonych w ustawie o gospodarce nieruchomościami

Pytanie **19**

Punkty maks.: 1,00

Organ wyższego stopnia nakłada karę pieniężną na organ właściwy w sprawie ustalenia lokalizacji inwestycji celu publicznego, jeżeli nie wyda decyzji w tej sprawie w terminie:

Wybierz wszystkie poprawne:

- a. 45 dni od dnia złożenia wniosku o wydanie takiej decyzji
- b. 60 dni od dnia złożenia wniosku o wydanie takiej decyzji
- c. 65 dni od dnia złożenia wniosku o wydanie takiej decyzji
- d. dwóch miesięcy od dnia złożenia wniosku o wydanie takiej decyzji

Pytanie **20**

Punkty maks.: 1,00

Władzę ustawodawczą w Rzeczypospolitej Polskiej sprawują:

Wybierz wszystkie poprawne:

- a. Sądy
- b. Rada Ministrów

- c. Senat
- d. Sejm

Pytanie **21**

Punkty maks.: 1,00

Materiały zasobu w postaci nieelektronicznej przyjęte do państwowego zasobu geodezyjnego i kartograficznego przetwarzają się sukcesywnie do postaci dokumentów elektronicznych nie dłużej niż:

Wybierz wszystkie poprawne:

- a. do dnia 31 grudnia 2022 r.
- b. do dnia 31 grudnia 2021 r.
- c. do dnia 31 grudnia 2024 r.
- d. do dnia 31 grudnia 2023 r.

Pytanie **22**

Punkty maks.: 1,00

Na Krajowe Ramy Interoperacyjności składają się:

Wybierz wszystkie poprawne:

- a. sposoby osiągnięcia interoperacyjności
- b. architektura systemów teleinformatycznych podmiotów realizujących zadania publiczne
- c. repozytorium interoperacyjności na ePUAP
- d. repozytorium ZSIN

Pytanie **23**

Punkty maks.: 1,00

Odmowa wydania zaświadczenia bądź zaświadczenia o treści żądanej przez osobę ubiegającą się o nie następuje w drodze:

Wybierz wszystkie poprawne:

- a. zawiadomienia
- b. decyzji
- c. pisma
- d. postanowienia

Pytanie **24**

Punkty maks.: 1,00

Ewidencję zbiorów i usług danych przestrzennych objętych infrastrukturą informacji przestrzennej prowadzi:

Wybierz wszystkie poprawne:

- a. minister właściwy do spraw budownictwa, planowania i zagospodarowania przestrzennego oraz mieszkalnictwa
- b. Główny Geodeta Kraju
- c. Minister Spraw Wewnętrznych i Administracji
- d. Minister Cyfryzacji

Pytanie **25**

Punkty maks.: 1,00

Mapa zasadnicza może być prowadzona w postaci wektorowej lub w postaci rastrowej uzupełnianej systematycznie danymi wektorowymi, na zasadach stosowanych przed dniem 1 stycznia 2014 r. w terminie:

Wybierz wszystkie poprawne:

- a. do dnia 1 stycznia 2023 r.
- b. do dnia 1 stycznia 2022 r.

- c. do dnia 31 grudnia 2023 r.
- d. do dnia 31 grudnia 2022 r.

Pytanie **26**

Punkty maks.: 1,00

Poprzez pojęcie tyczenia rozumiemy:

Wybierz wszystkie poprawne:

- a. postawienie pikiet z wbiciem palika drewnianego
- b. wskazanie w terenie punktów mające na celu pokazanie usytuowania obiektu /ów
- c. czynności zmierzające do opracowania współrzędnych punktów geodezyjnych
- d. zespół czynności polegających na wyznaczeniu i oznaczeniu położenia w terenie elementów niezbędnych do realizacji projektu obiektu budowlanego

Pytanie **27**

Punkty maks.: 1,00

Materiałom gromadzonym w państwowym zasobie geodezyjnym i kartograficznym nadawany jest identyfikator składający się z:

Wybierz wszystkie poprawne:

- a. czterech członów oddzielonych kropkami
- b. trzech członów oddzielonych kropkami
- c. pięciu członów oddzielonych kropkami
- d. dwóch członów oddzielonych kropkami

Pytanie **28**

Punkty maks.: 1,00

Organami administracji geodezyjnej i kartograficznej są :

Wybierz wszystkie poprawne:

- a. wojewoda wykonujący zadania przy pomocy wojewódzkiego inspektora nadzoru geodezyjnego i kartograficznego
- b. Główny Geodeta Kraju
- c. starosta wykonujący zadania przy pomocy geodety powiatowego
- d. marszałek województwa wykonujący zadania przy pomocy geodety województwa

Pytanie **29**

Punkty maks.: 1,00

Wymiana danych między organami Służby Geodezyjnej i Kartograficznej odbywa się w postaci elektronicznej:

Wybierz wszystkie poprawne:

- a. po wskazaniu zakresu niezbędnych danych
- b. raz w miesiącu
- c. niezwłocznie po otrzymaniu zgłoszenia prac geodezyjnych
- d. na pisemną prośbę zainteresowanego organu

Pytanie **30**

Punkty maks.: 1,00

Drogowy obiekt inżynierski oznacza:

Wybierz wszystkie poprawne:

- a. most
- b. tunel
- c. konstrukcję oporową

- d. przepust

Pytanie **31**

Punkty maks.: 1,00

Właściwi ministrowie i kierownicy urzędów centralnych o ustaleniu terenu zamkniętego zawiadamiają i podają klauzulę tajności informacji dotyczących obiektów znajdujących się na tym terenie:

Wybierz wszystkie poprawne:

- a. właściwych miejscowo wojewódzkich inspektorów nadzoru geodezyjnego i kartograficznego
- b. Głównego Geodetę Kraju
- c. właściwych miejscowo marszałków województw
- d. właściwych miejscowo wojewodów

Pytanie **32**

Punkty maks.: 1,00

Prawo do wykonywania samodzielnych funkcji w dziedzinie geodezji i kartografii nabywa się:

Wybierz wszystkie poprawne:

- a. z dniem wpisu do centralnego Rejestru osób posiadających uprawnienia zawodowe
- b. od daty publikacji w Biuletynie Informacji Publicznej na stronie Głównego Urzędu Geodezji i Kartografii
- c. od czasu pozyskania pieczęci z numerem uprawnień
- d. od daty pozytywnego zdania egzaminu

Pytanie **33**

Punkty maks.: 1,00

Rezultaty narady koordynacyjnej, zarządzanej przez starostę w celu uzgodnienia przebiegu projektowanych sieci uzbrojenia terenu, utrwała się w formie:

Wybierz wszystkie poprawne:

- a. postanowienia
- b. opinii
- c. oświadczenia
- d. protokołu

Pytanie **34**

Punkty maks.: 1,00

Przy zakładaniu poziomych osnów pomiarowych z wykorzystaniem pomiarów kątowno-liniowych należy zapewnić:

Wybierz wszystkie poprawne:

- a. co najmniej czteropunktowe nawiązanie do punktów poziomej osnowy geodezyjnej
- b. wielopunktowe nawiązanie do punktów poziomej osnowy geodezyjnej
- c. wyrównanie danych obserwacyjnych metodą średniej matematycznej przy nawiązaniu do co najmniej dwóch punktów nawiązania
- d. wyrównanie danych obserwacyjnych metodą najmniejszych kwadratów w układzie sieci jednorzędowej przy założeniu bezbłądności punktów nawiązania

Pytanie **35**

Punkty maks.: 1,00

W przypadku udostępniania materiałów zasobu w związku ze zgłoszeniem prac geodezyjnych klauzula urzędowa jest równoważna z:

Wybierz wszystkie poprawne:

- a. kwalifikowaną pieczęcią elektroniczną organu prowadzącego zasób
- b. decyzją administracyjną o przyjęciu materiału do zasobu

- c. podpisem odręcznym osoby reprezentującej organ prowadzący zasób
- d. kwalifikowanym podpisem elektronicznym osoby reprezentującej organ prowadzącym zasób

Pytanie **36**

Punkty maks.: 1,00

Rejestr prac geodezyjnych i kartograficznych zawiera dane określające:

Wybierz wszystkie poprawne:

- a. wysokość opłaty za udostępnione materiały zasobu
- b. cel zgłoszonych prac geodezyjnych
- c. identyfikator wykonawcy wskazany w zgłoszeniu prac geodezyjnych
- d. daty doręczenia wykonawcy prac geodezyjnych protokołów weryfikacji

Pytanie **37**

Punkty maks.: 1,00

Które z wymienionych obiektów należą do kategorii obiektów topograficznych (BDOT500) "wody":

Wybierz wszystkie poprawne:

- a. most
- b. jaz
- c. molo
- d. przepust

Pytanie **38**

Punkty maks.: 1,00

Objęte infrastrukturą informacji przestrzennej zbiory oraz usługi danych przestrzennych, prowadzone przez organy administracji publicznej, są udostępniane:

Wybierz wszystkie poprawne:

- a. nieodpłatnie – innym organom administracji w zakresie niezbędnym do realizacji przez nie zadań publicznych
- b. odpłatnie – innym organom administracji w zakresie niezbędnym do realizacji przez nie zadań publicznych
- c. nieodpłatnie – instytucjom i organom Unii Europejskiej do celów sprawozdawczych w zakresie środowiska
- d. odpłatnie – instytucjom i organom Unii Europejskiej do celów sprawozdawczych w zakresie środowiska

Pytanie **39**

Punkty maks.: 1,00

Udostępnienie materiałów zasobu odbywa się na podstawie:

Wybierz wszystkie poprawne:

- a. postanowienia o udostępnieniu materiałów zasobu
- b. zgłoszenia prac geodezyjnych
- c. wniosku
- d. decyzji administracyjnej

Pytanie **40**

Punkty maks.: 1,00

Modyfikacji współrzędnych punktów granicznych dokonuje się, jeżeli odchyłka wyrażona przez pierwiastek z sumy kwadratów różnic między dotychczasowymi współrzędnymi punktu granicznego i współrzędnymi tego punktu jest:

Wybierz wszystkie poprawne:

- a. większa niż 0,15 m
- b. mniejsza niż 0,15 m



- c. równa 0,15 m
- d. większa niż 0,10 m

Pytanie **41**

Punkty maks.: 1,00

Do gruntów zabudowanych i zurbanizowanych nie należą:

Wybierz wszystkie poprawne:

- a. nieużytki, oznaczone symbolem - N
- b. użytki kopalne, oznaczone symbolem - K
- c. tereny mieszkaniowe, oznaczone symbolem - B
- d. grunty przeznaczone pod budowę linii kolejowych, oznaczone symbolem - Tp

Pytanie **42**

Punkty maks.: 1,00

Do zakresu działania gminy należą:

Wybierz wszystkie poprawne:

- a. wszystkie sprawy publiczne i niepubliczne o znaczeniu lokalnym
- b. wszystkie sprawy publiczne o znaczeniu lokalnym
- c. wszystkie sprawy publiczne o znaczeniu lokalnym, niezastrzeżone ustawami na rzecz innych podmiotów
- d. wszystkie sprawy publiczne i niektóre niepubliczne o znaczeniu lokalnym

Pytanie **43**

Punkty maks.: 1,00

Wyłączenie nieruchomości polega na :

Wybierz wszystkie poprawne:

- a. pozbawieniu prawa użytkowania wieczystego na nieruchomości
- b. ograniczeniu prawa własności na nieruchomości
- c. ograniczeniu prawa użytkowania wieczystego na nieruchomości
- d. pozbawieniu prawa własności na nieruchomości

Pytanie **44**

Punkty maks.: 1,00

Identyfikator jednostki ewidencyjnej 066301\_1 wskazuje, że jest to:

Wybierz wszystkie poprawne:

- a. miasto w gminie miejsko-wiejskiej
- b. gmina miejska
- c. gmina miejsko-wiejska
- d. gmina wiejsko-miejska

Pytanie **45**

Punkty maks.: 1,00

Układ wysokościowy PL-KRON86-NH stosuje się:

Wybierz wszystkie poprawne:

- a. nie dłużej niż do dnia 1 stycznia 2023 r.
- b. nie dłużej niż do dnia 31 grudnia 2023 r.
- c. do czasu wdrożenia układu wysokościowego PL-EVRF2007-NH na obszarze całego kraju


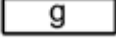


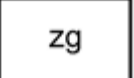
- d. do czasu wdrożenia układu PL-1992 na obszarze całego kraju

Pytanie **46**

Punkty maks.: 1,00

Który znak kartograficzny przedstawia zasuwę lub zawór:

Wybierz wszystkie poprawne:

- a.  
- b. 
- c. 
- d. 

Pytanie **47**

Punkty maks.: 1,00

Rejestr cen nieruchomości zawiera informacje dotyczące:

Wybierz wszystkie poprawne:

- a. ceny transakcji netto
- b. strony kupującej
- c. rodzaju rynku
- d. wykazu nieruchomości będących przedmiotem transakcji

Pytanie **48**

Punkty maks.: 1,00

Przy nadawaniu numerów porządkowych:

Wybierz wszystkie poprawne:

- a. nie uwzględnia się prognozowanej zabudowy przy nadawaniu numerów porządkowych
- b. pozostawia się wolne numery pod prognozowaną zabudowę
- c. uwzględnia się numerację porządkową w miejscowościach sąsiednich
- d. uwzględnia się ład przestrzenny w całej miejscowości

Pytanie **49**

Punkty maks.: 1,00

Budowle i urządzenia ziemne oraz pojedyncze drzewa należą do:

Wybierz wszystkie poprawne:

- a. I grupy szczegółów terenowych
- b. III grupy szczegółów terenowych
- c. II grupy szczegółów terenowych
- d. I lub II grupy szczegółów terenowych

Pytanie **50**

Punkty maks.: 1,00

Zaznacz poprawne stwierdzenie/stwierdzenia:

Wybierz wszystkie poprawne:

- a. Tylko znaki graniczne i znaki geodezyjne należą do I grupy szczegółów terenowych.
- b. Punkty graniczne i znaki graniczne należą do I grupy szczegółów terenowych.

- c. Tylko punkty graniczne i znaki graniczne należą do I grupy szczegółów terenowych.
- d. Tylko punkty graniczne należą do I grupy szczegółów terenowych.

Pytanie **51**

Punkty maks.: 1,00

Zezwolenie zarządcy drogi, wydane w drodze decyzji administracyjnej, wymagane jest w przypadku:

Wybierz wszystkie poprawne:

- a. zajęcia pasa drogowego na cele niezwiązane z budową drogi
- b. zajęcia pasa drogowego na cele związane z przebudową drogi
- c. zajęcia pasa drogowego na cele niezwiązane z remontem drogi
- d. zajęcia pasa drogowego na cele związane z ochroną dróg

Pytanie **52**

Punkty maks.: 1,00

Jeśli przy wznawianiu przesuniętych, uszkodzonych lub zniszczonych znaków granicznych, ustalonych uprzednio, wyniknie spór co do ich położenia, strony mogą:

Wybierz wszystkie poprawne:

- a. wystąpić do wójta (burmistrza, prezydenta miasta) o rozstrzygnięcie sprawy
- b. wystąpić ze skargą do sądu administracyjnego
- c. wystąpić do sądu o rozstrzygnięcie sprawy
- d. wystąpić do wojewódzkiego inspektora nadzoru geodezyjnego o rozstrzygnięcie sprawy

Pytanie **53**

Punkty maks.: 1,00

Kto niszczy, uszkadza, czyni bezużytecznym, ukrywa lub usuwa dokument, którym nie ma prawa wyłącznie rozporządzać:

Wybierz wszystkie poprawne:

- a. podlega grzywnie, karze ograniczenia wolności albo pozbawienia wolności do lat 2
- b. podlega karze pozbawienia wolności do lat 2
- c. podlega grzywnie
- d. podlega grzywnie, karze ograniczenia wolności albo pozbawienia wolności do lat 5

Pytanie **54**

Punkty maks.: 1,00

Do jakiej kategorii obiektów topograficznych (BDOT500) należy obiekt "fontanna":

Wybierz wszystkie poprawne:

- a. zagospodarowanie terenu
- b. sport i rekreacja
- c. wody
- d. budowle

Pytanie **55**

Punkty maks.: 1,00

Geodezyjny pomiar wysokościowy wykonuje się z dokładnością nie mniejszą niż:

Wybierz wszystkie poprawne:

- a. 0,1m - dla urządzeń budowlanych
- b. 0,05m - dla pikiet markowanych w terenie
- c. 0,1m - dla mierzonych elektromagnetycznie podziemnych obiektów sieci uzbrojenia terenu

- d. 0,05m - dla obiektów budowlanych

Pytanie **56**

Punkty maks.: 1,00

Ewidencja materiałów zasobu zawiera:

Wybierz wszystkie poprawne:

- a. informację o dostępie do materiału zasobu
- b. określenie formatu danych materiału zasobu
- c. datę przyjęcia materiału do zasobu
- d. położenie przestrzenne obszaru, którego dotyczy materiał zasobu

Pytanie **57**

Punkty maks.: 1,00

Danymi ewidencyjnymi dotyczącymi budynku są:

Wybierz wszystkie poprawne:

- a. pole powierzchni zabudowy
- b. łączne pole powierzchni zabudowy lokali wraz z pomieszczeniami przynależnymi
- c. adres budynku, nawet jeżeli nie został określony
- d. kubatura powierzchni mieszkalnych

Pytanie **58**

Punkty maks.: 1,00

W skalach 1:500 i 1:1000 na mapie zasadniczej w opisie budynku są zawarte:

Wybierz wszystkie poprawne:

- a. oznaczenie kodu obiektu
- b. numer najwyższej kondygnacji nadziemnej budynku
- c. oznaczenie rodzaju budynku
- d. adres budynku

Pytanie **59**

Punkty maks.: 1,00

Grunty oznaczone symbolem Lzr zalicza się do grupy:

Wybierz wszystkie poprawne:

- a. tereny zabudowane i zurbanizowane
- b. grunty rolne
- c. tereny różne
- d. grunty leśne oraz zadrzewione i zakrzewione

Pytanie **60**

Punkty maks.: 1,00

Uzgodnienie projektu modernizacji ewidencji gruntów i budynków z właściwym miejscowo wojewódzkim inspektorem nadzoru geodezyjnego i kartograficznego następuje w terminie:

Wybierz wszystkie poprawne:

- a. 14 dni od dnia otrzymania wniosku przez wojewódzkiego inspektora nadzoru geodezyjnego i kartograficznego
- b. jednego miesiąca od dnia otrzymania wniosku przez wojewódzkiego inspektora nadzoru geodezyjnego i kartograficznego
- c. 30 dni od dnia otrzymania wniosku przez wojewódzkiego inspektora nadzoru geodezyjnego i kartograficznego
- d. dwóch miesięcy od dnia otrzymania wniosku przez wojewódzkiego inspektora nadzoru geodezyjnego i kartograficznego

